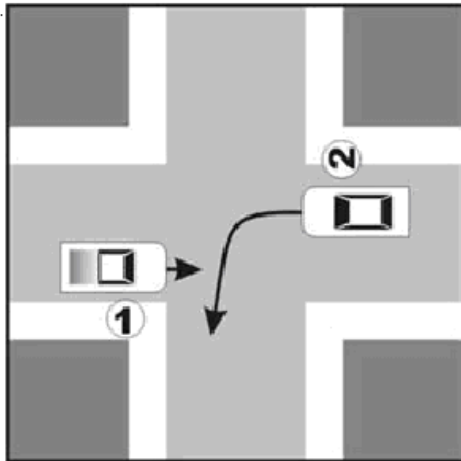
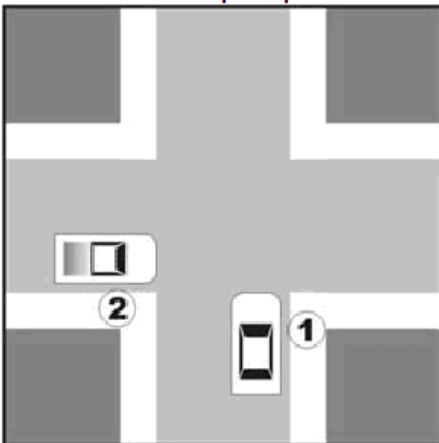


01) Qual o veículo não tem preferência:



- a) O veículo 1 porque esta circulando em linha reta
- b) O veículo 2 porque não sinalizou a intenção de convergir
- c) O veículo 1 porque esta a direita do veículo 2
- d) O veículo 2 pois antes de convergir a esquerda devemos aguardar os veículos que vem em sentido contrário

02) Análise o desenho abaixo e marque a preferência:



- a) Do veículo 2 porque trafega a direita da via
- b) Do veículo 1 porque trafega a direita do veículo 2
- c) Do veículo 1 porque o veículo 2 vai virar a esquerda
- d) Do veículo 2 porque o veículo 1 vai virar a direita

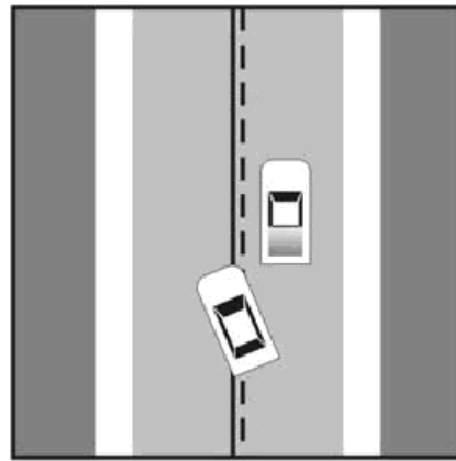
03) A transposição de faixas, movimentos de conversão à direita e retornos denomina-se:

- a) Interseção.
- b) Logradouro.
- c) Cruzamento.
- d) Deslocamento lateral

04) Ao se aproximar de um cruzamento, uma forma segura de agir é:

- a) Manter a mesma velocidade.
- b) Aumentar a velocidade.
- c) Parar o veículo.
- d) Reduzir a velocidade.

05) O desenho abaixo mostra:



- a) Via de duplo sentido de circulação
- b) Ultrapassagem pelo lado seccionado.
- c) Via com permissão de ultrapassar em ambos os lados.
- d) As alternativas a e b estão corretas.

06) As placas de sinalização vertical, classificadas de acordo com as suas funções, são agrupadas em:

- a) Sinalização de regulamentação, advertência e de indicação.
- b) Sinalização de regulamentação e advertência.
- c) Sinalização de indicação e especial para pedestres.
- d) Sinalização indicativa de serviços e atrativos turísticos.

07) A remoção do silenciador de um veículo caracteriza uma infração:

- a) Gravíssima.
- b) Leve.
- c) Média.
- d) Grave.

08) Constitui documento de porte obrigatório:

- a) Comprovante de pagamento atualizado de IPVA.
- b) Certificado de registro de veículo.
- c) ACC, PPD ou CNH e CRLV.
- d) Comprovante do pagamento do seguro obrigatório.

09) A verificação de eventual complementação do nível de água do radiador deve ser feita:

- a) Em qualquer hora do dia.
- b) Com motor quente.
- c) Com o motor frio mais ligado.
- d) No final de sua jornada diária.

10) Quando o auto de infração será arquivado e seu registro julgado insubsistente (sem valor)?

- a) Quando assim entender o agente de trânsito.
- b) Quando o infrator for menor de 18 anos.
- c) Quando a autuação for irregular ou se, no prazo de trinta dias, não for expedida a notificação.
- d) Quando a notificação for devolvida por desatualização de endereço.

11) É classificação dos veículos:

- a) Especial, misto, passageiros, carga e coleção.
- b) Tração, espécie e categoria.
- c) Particular, aluguel, aprendizagem, oficial, missão diplomática.
- d) Misto.

12) Assinale a alternativa incorreta:

- a) O condutor de categoria "A" pode conduzir veículo de 2 ou 3 rodas.
- b) O condutor habilitado em qualquer categoria poderá conduzir motos de até 100cc.
- c) Os condutores "B" e "C" só poderão conduzir veículos com no máximo 08 lugares fora o do condutor.
- d) Com categoria "E", poderão ser conduzidos veículos das categorias inferiores- "B", "C" e "D".

13) Para dirigir com maior segurança, a forma correta de segurar o volante de direção é com as mãos:

- a) Apoiadas na parte externa do volante, em posição similar à oito horas e vinte minutos do relógio.
- b) Juntas na parte de baixo.
- c) Nos raios do volante.
- d) Apoiadas na parte externa do volante, em posição similar à nove horas e quinze minutos ou dez para as duas do relógio.

14) Ao encontrar a placa R-3 o condutor poderá:

- a) Dobrar à esquerda ou à direita
- b) Dobrar à esquerda ou seguir em frente;
- c) Somente dobrar à esquerda
- d) Somente dobrar à direita.

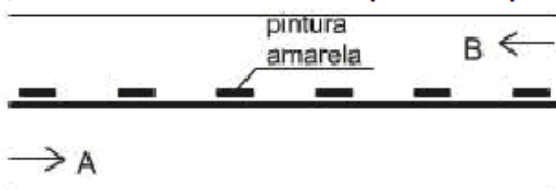
15) A placa A-10a averte o condutor:

- a) Entroncamento oblíquo à direita;
- b) Confluência à esquerda;
- c) Confluência a direita;
- d) Entroncamento oblíquo à esquerda.

16) O gesto do agente GA 06 indica:

- a) ordem de parar
- b) ordem de seguir
- c) ordem de diminuir a marcha
- d) ordem de parada veículos que cortam ortogonalmente

17) Na ilustração abaixo relativa a uma rodovia



- a) O condutor pode ultrapassar no sentido de A para B.
- b) O condutor pode ultrapassar no sentido de B para A.
- c) O condutor pode ultrapassar nos dois sentidos
- d) O condutor não pode ultrapassar.

18) Expedir CNH é atribuição do:

- a) Departamento Nacional de Trânsito
- b) Departamento de Trânsito
- c) Conselho Estadual de Trânsito
- d) Conselho Nacional de Trânsito

19) Imobilizar o veículo pelo tempo necessário para embarque e desembarque de pessoas caracteriza:

- a) ponto de parada
- b) parada
- c) estacionamento
- d) estacionamento rápido

20) Qual das alternativas não é considerada característica de um bom condutor:

- a) respeitar as normas de trânsito
- b) evitar comportamentos agressivos
- c) agir impulsivamente
- d) respeitar a sinalização

21) A placa A4a indica:

- a) curva acentuada em 'S' à direita
- b) curva em S a esquerda
- c) curva em S a direita
- d) curva acentuada em 'S' à esquerda

22) A penalidade de advertência por escrito poderá ser aplicada nos casos:

- a) Em que a autoridade de trânsito desejar;
- b) Para infratores contumazes;
- c) Para infratores primários;
- d) Infratores primários, no prazo de 12 meses, nos casos de infrações médias ou leves;

23) Qual a finalidade DPVAT?

- a) Cobrir danos pessoais causados por veículos automotores de vias terrestres;
- b) Cobrir danos materiais causados por veículos automotores;
- c) Cobrir danos pessoais causados por veículos;
- d) Cobrir danos pessoais e materiais causados por veículos automotores de vias terrestres;

24) Como devem ser as manobras de marcha à ré?

- a) Rápidas sem causar riscos;
- b) Curtas e sem causar riscos;
- c) Longas e sem causar riscos;
- d) Somente se o veículo possuir retrovisores laterais;

25) Quando o extintor de incêndio deve ser trocado:

- a) após o uso
- b) se apresentar alguma irregularidade
- c) no vencimento do teste hidrostático
- d) todas as alternativas estão corretas

26) Os principais sistemas do veículos são:

- a) motor, câmbio, diferencial, freio
- b) motor, transmissão, direção, suspensão, freio
- c) motor, embreagem, eixo-motriz, semi-arvore
- d) motor, molas, amortecedor, pneu

27) O trafego na avenida em que você se encontra está lento devido a forte chuva. Você verifica que a via começa a alargar. O comportamento seguro nessa situação é:

- a) Engrenar a primeira ou segunda marchas, mantendo o motor acelerado, impedindo a entrada de água pelo cano de escapamento.
- b) Manter a marcha desengrenada para economizar a embreagem.
- c) Buzinar, para apressar os veículos à frente.
- d) Aumentar a velocidade do veículo para sair, rapidamente, do alagamento.

28) Assinale a alternativa incorreta:

- a) na análise primária devemos avaliar o estado de consciência da vítima
- b) hipotermia significa temperatura corporal baixa
- c) observar se a pessoa apresenta fraturas e hemorragias, faz parte da análise secundária
- d) a principal prioridade é transportar a vítima em um acidente

29) O condutor manterá aceso os faróis dos veículos, utilizando luz baixa durante a noite e durante o dia em:

- a) vias não iluminada
- b) túneis providos de iluminação pública
- c) viadutos e trincheiras
- d) vias sem acostamento

30) A placa R23 assinala que os condutores de veículos quando em movimento:

- a) deverão permanecer no acostamento da pista de rolamento
- b) deverão utilizar o desvio
- c) respeita a sinalização indicando obras a frente
- d) deverão permanecer a direita da pista de rolamento